

# 6.SINIF

## MATEMATİK 2.DÖNEM 1.YAZILI SORULARI



SAYILARA FISILDAYAN HOCA



Bir kavanozdaki papatyaların tamamı onarlı veya on ikişerli bir şekilde hiç papatya artmadan ambalajlanabiliyor.  
1-) Kavanozdaki papatya sayısı 160 'dan az olduğu bilindiğine göre kavanozda en az kaç papatya vardır?

Ahmet



$$6 \frac{2}{5} \text{ m}$$



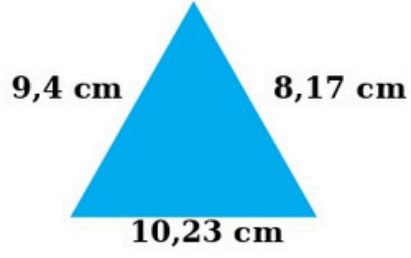
$$5 \frac{1}{3} \text{ m}$$

Veli



2-) Yukarıda verilen şekile göre Ahmet ile Veli arasındaki mesafe kaç metredir?

3-) Mira tanesi 12,75 tl olan uç kutularından 6 tane alıyor kasiyere 100 tl veriyor.  
Buna göre Mira kaç tl para üstü alır?



4-) Yukarıda verilen üçgenin çevre uzunluğu kaç santimetredir.

5-) Aşağıda verilen sayıların yüzdelerini hesaplayınız

200 sayısının %20 si

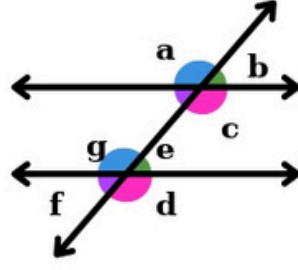
80 sayısının %40 ı

80 sayısının %40 ı

500 sayısının %25 i

6-) 90 kişilik bir sinema salonun %40 ı doludur.

Buna göre bu salondaki boş koltuk sayısını bulunuz.



7-) Yukarıda verilen paralel doğrular arasında kalan açılar dikkate alarak aşağıdaki boşlukları doldurunuz.

a ile g .....açılardır.

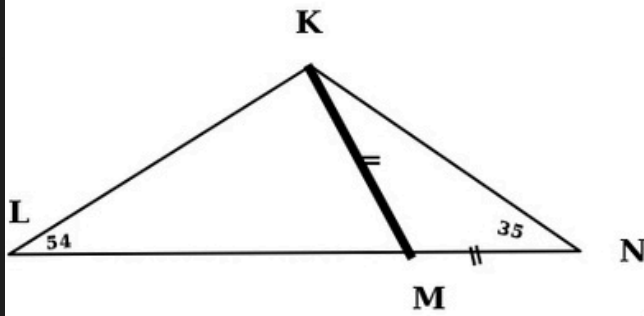
a açısı ikle b açısının toplamı ..... derecedir

b ile f ..... açılardır.

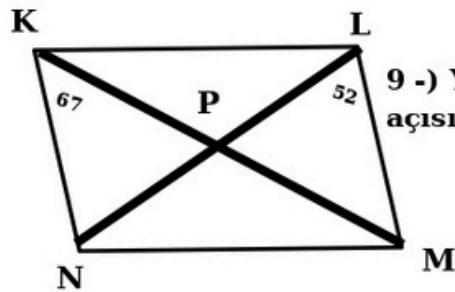
e açısı ile f açısının açı ölçüleri .....

g ile d ..... açılardır

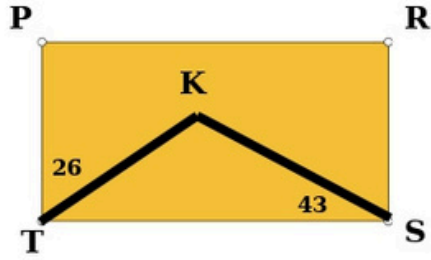
b ile e ..... açılardır.



8-) Yukarıda verilen KLN üçgeninde  $|KM| = |MN|$  olduğuna göre LKN açısının ölçüsü kaç derecedir.



9 -) Yanda verilen KLMN paralelkenarının köşegenleri P noktasında kesiştiğine göre LP açısının ölçüsü kaç derecedir.?



10-) Yukarıdaki PRST dikdörtgeninde verilenlere göre TKS açısının ölçüsü kaç derecedir?



11-) Yukarıdaki ABCD dörtgeninde b açısı 93 derece c açısı 82 derece ve d açısı 54 derecedir.  
Buna göre  $m(\text{DAB})$  açısı kaç derecedir?

ORTAOKUL

LİSE

YAZILILAR

# DAHA FAZLA YAZILI ÖRNEKLERİ İÇİN

100



**yazilikocum**  

Yazılı Koçum - Ortaokul |Lise | Ali Nuri Toprak

194 gönderi 83,1 B takipçi 190 takip

Eğitim

 Okul Yazılılarından 100 Almanıza Yardımcı Oluyoruz. (Ücretsiz)

 Yazılı Paylaşım Grubuna Katıl   (5.6.7.8.9.10... devamı)



BEĞEN



TAKİP ET



KAYDET



PAYLAŞ

YAZILI KOÇUM

